



புலமைக்கதிர



மாதிரி வினாத்தாள்- 2020

மாணவர்களை பாடசாலைக்குத் தேர்ந்தெடுப்பதற்கும் மாணவர்களுக்கு உதவிப்பணம் வழங்குவதற்காகத் தரம் ஐந்து மாணவர்களுக்கு நடாத்தப்படும் மாதிரிப்பரீட்சை வினாத்தாள்-2020

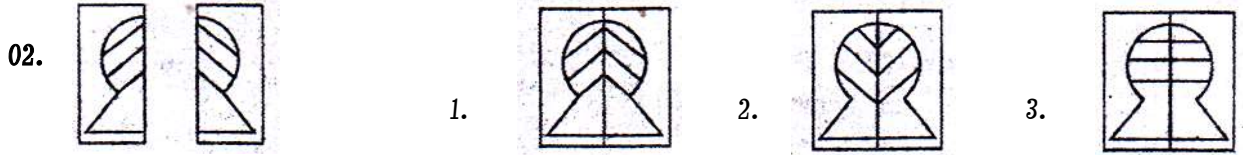
2

பத்திரம் I


சுட்டெண் :

45 நிமிடம்

* தொடக்கத்தில் உள்ள இரண்டு உருவையும் இணைக்கும் போது தோன்றும் சரியான வடிவம் எது?



* கீழுள்ள எழுத்துக்கள் எழுதப்பட்ட அட்டையை முகம் பார்க்கும் கண்ணாடியில் பார்க்கும் போது தெரியும் விதத்தைத் தெரிவு செய்க?



04.



1.



2.



3.



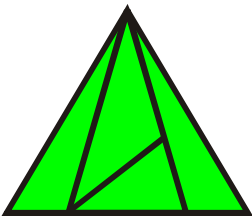
05. கப்பல் துறைமுகம் எனின் ஆகாய விமானம்

1. தரை 2. விமானநிலையம் 3. நீர்

06. திங்கட்கிழமை, புதன்கிழமை, வெள்ளிக்கிழமை, ஞாயிற்றுக்கிழமை,

1. திங்கட்கிழமை 2. செவ்வாய்க்கிழமை 3. புதன்கிழமை

07.



உருவிலுள்ள முக்கோணிகளின் எண்ணிக்கை?

1. 9
2. 8
3. 6

08. கதிர்காமம் 1 2 7 8 5 3 என எழுதினால் கொடிகாமம் எழுதப்படுவது?

1. 9 6 8 5 3 2. 1 2 7 8 5 3. 9 6 8 5 0

09. அந்தரங்கம் என்ற சொல்லில் உள்ள எழுத்துக்களை மட்டும் பயன்படுத்தி எழுதப்படாத செல்

1. அரங்கம் 2. தரங்கம் 3. களங்கம்

10. சரியான கோவையைத் தெரிவு செய்க?

1. $6 \times 5 - 3 = 33$ 2. $6 \times 6 - 6 = 30$ 3. $4 \times 6 + 5 = 30$

11. சரியாக எழுதப்பட்டுள்ள வாக்கியம் எது?

1. பாடசாலைக்குச் சமூகமளித்தான்
2. பாடசாலைக்குச் சமூகமளித்தான்
3. பாடசாலைக்குச் சமூகமழித்தான்

12. நேற்று புதன்கிழமையாயின் நாளை மறுநாள் என்ன கிழமை?

1. செவ்வாய் 2. திங்கள் 3. சனி



*

கூற்றை அவதானித்து அடுத்தவரும் இரு வினாக்களுக்கு விடையைத் தெரிவு செய்க.

1, 2, 3 ஆகியவற்றுக்குப் பதிலாக A, B, C என்னும் எழுத்துக்களைப் பயன்படுத்தப்பட்டுள்ளது. பின்வரும் கணிதச் செய்கைகளுக்குப் பொருத்தமான ஆங்கில எழுத்துக்களைத் தெரிவு செய்க.

20. $A + B = \dots\dots\dots$

1. B 2. C 3. A

22. $C - A = \dots\dots\dots$

1. A 2. B 3. C

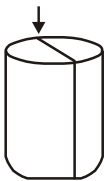
23. பத்தாவது ஒற்றை எண் யாது?

1. 21 2. 20 3. 19




24. நான்கு மனிதர் 3 நாட்களில் செய்யும் வேலையை இரண்டு மனிதர் எத்தனை நாட்களில் செய்வார்கள்?

1. 12 2. 4 3. 6

25.



இத்திண்ம உருவை கோடுகள் வழியே இது துண்டுகளாக வெட்டும் போது ஒரு பாதியில் காணக்கூடிய வடிவம் எது?

1.  2.  3. 

26. $5367 \longrightarrow 7536 \longrightarrow 6753 \longrightarrow \dots\dots\dots$

1. 5267 2. 3675 3. 3765

27. “பூஞ்செடிகளைத் தொடாதவாறு பார்க்கவும்” இது....

1. ஓர் அறிவித்தல் 2. ஒரு தகவல் 3. ஓர் அறிவுறுத்தல்

28. 100 தொடக்கம் 120 வரையான எண்களை எழுதும் போது இலக்கம் 1 எழுதப்படும் தடவைகள் எத்தனை?

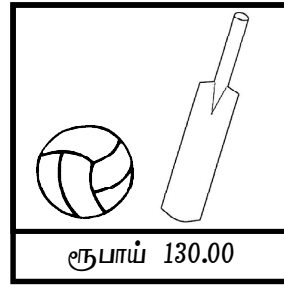
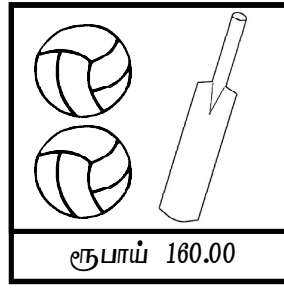
1. 21 2. 22 3. 23

29. இப்பொழுது வானத்தில் சந்திரனைப் பார்க்கமுடியவில்லை. எனவே சற்று நேரத்தில் இருள் விலகிவிடும் என்பது?

1. சரி 2. பிழை 3. கூறமுடியாது



* 30 ஆம் 31ஆம் வினாக்களுக்கு கீழுள்ள உருக்களை ஆதாரமாகக் கொண்டு விடை தருக.



30. பந்தின் விலை யாது?

1. ரூபாய் 100.00
2. ரூபாய் 60.00
3. ரூபாய் 30.00

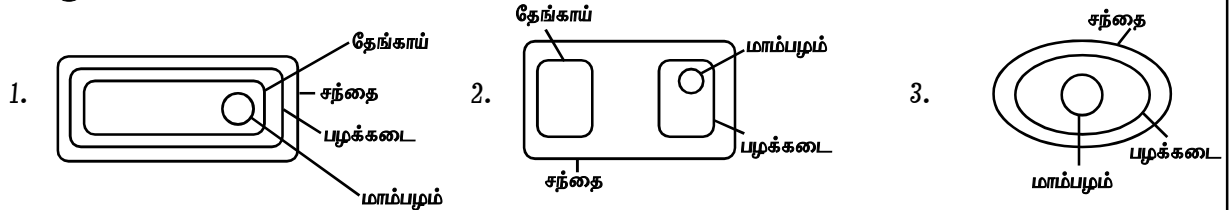
31. இரண்டு துடுப்பு மட்டைகளும் மூன்று பந்துகளும் வாங்க எவ்வளவு பணம் தேவை?

1. ரூபாய் 220.00
2. ரூபாய் 290.00
3. ரூபாய் 190.00

32. பாடசாலைக்கு அதிபர் போல வங்கிக்கு

1. முகாமையாளர்
2. பீடாதிபதி
3. ஊழியர்

33. சந்தை, தேங்காய், மாம்பழம், பழக்கடை என்பனவற்றை வகைக்குறிக்கும் சரியான விடை யாது?



34. 31 நாட்களைக் கொண்ட மாதங்கள்

1. தை, சித்திரை
2. தை, பங்குனி
3. பங்குனி, சித்திரை

35. பாடசாலைக்குக் கிழக்குத் திசையில் தபாலகம் உள்ளது. வைத்தியசாலைக்கு மேற்குத் திசையில் தபாலகம் உள்ளது. இதன்படி மத்தியில் (நடுவில்) இருப்பது எது?

1. தபாலகம்
2. வைத்தியசாலை
3. பாடசாலை

36. ஒற்றைக்கொம்பும் அரவும் கொண்டமைந்த சொல்

1. செவ்வாய்
2. கொக்கு
3. கோடு



37. என்னிடம் 3 பேனைகள் உள்ளன. பாமாவிடம் என்னிடம் உள்ளதைப்போல் 5 மடங்கு பேனைகள் உள்ளன. இருவரிடமும் உள்ள பேனைகளின் முழுத்தொகை யாது?

1. 15

2. 16

3. 18

38. மழைவீழ்ச்சி - வெள்ளப்பெருக்கு எனின் கடும் வெயில்

1. வறட்சி

2. குளிர்ச்சி

3. புயற்காற்று

* பின்வரும் பாடலை வாசித்து வினாக்களுக்கு விடை தருக.

எங்கள் வீட்டு வானொலி

எனக்குப் பிடித்த வானொலி

செய்தி சொல்லும் வானொலி

சிறப்பு மிக்க வானொலி

39. இப்பாடலில் அதிக தடவை இடம்பெற்றுள்ள சொல்

1. செய்தி

2. எங்கள்

3. வானொலி

40. வானொலி என்பதைப் பிரித்து எழுதினால்

1. வானம் + ஒலி

2. வான் + ஒலி

3. வா + ஒலி





புலமைக்கதிர்



மாதிரி வினாத்தாள் - 2020

மாணவர்களை பாடசாலைக்குத் தேர்ந்தெடுப்பதற்கும் மாணவர்களுக்கு உதவிப்பணம் வழங்குவதற்காகத் தரம் ஐந்து மாணவர்களுக்கு நடாத்தப்படும் மாதிரிப்பரீட்சை வினாத்தாள்-2020

2

பத்திரம் II

பெயர் :

1மணி 15நிமிடம்

01. பின்வரும் விளம்பரத்தை நன்றாக வாசித்து வினாக்களுக்கு விடை தருக?

சிறுவர்களே வாங்கிவிட்டீர்களா?

தாமரை

சிறுவர்களுக்காக வண்ணத்தில் வெளிவரும்

தமிழ்ச் சஞ்சிகை

கிம்மாத இதழில்

கணினியின் புதிய வரவு

வாசிக்கத் தூண்டும்

அறிவியல் தகவல்கள்

நன்னெறிக் கதைகள்

உங்கள் சித்திரங்கள்

ஒளிப்படங்கள்

விகடத் துணுக்குகள்

விஞ்ஞானிகளின் சுயசரிதைத் தொடர்கள்

வியப்பூட்டும் பறவையினத் தொடர்கள்

வெல்லமுடிந்தால் வெல்லங்கள்

பரிசுப்போட்டி

கின்னும் சுவையான அம்சங்களுடன்

கண்ணைக்கவரும் வண்ணத்தில்

உடனே வாங்குங்கள்.

1. தாமரை சஞ்சிகையை வாங்கிப் படிப்பவர்கள் யார்?

.....

2. இச்சஞ்சிகை எவ்வளவு காலத்திற்கு ஒருமுறை வெளிவருகிறது?

.....



திரு. க. சந்திரகுமார் .

--- ஆசிரிய ஆலோசகர், வவுனியா வடக்கு. ---

3. சஞ்சிகையில் வெளிவரும் தொடர்கள் எவை?

.....

4. பரிசுப்போட்டியின் தலைப்பு எது?

.....

5. வியப்பூட்டும் தொடர் எதைப் பற்றியது?

.....

6. சஞ்சிகையில் இடம்பெற்றுள்ள கதைகள் எவை?

.....

02. பின்வரும் சொற்களில் உயிர்க்குறிகளின் பெயர்களை எழுதுக.

1. நுட்பம்
2. சூழல்
3. சுத்தம்

03. அடைப்புக்குள் உள்ள சொற்களிலே சரியாக எழுத்துக் கூட்டப்பட்ட சொல்லைத் தெரிவு செய்து கோடிடுக.

1. உணவு உண்ண முன் (சவுக்காரம்/ சவர்க்காரம்) கொண்டு கைகழுவுதல் வேண்டும்.
2. நண்பர்கள் (தேனர்/ தேநீர்) விருந்தில் கலந்து கொண்டனர்
3. அடிக்கடி (காச்சல்/காய்ச்சல்) ஏற்படுவது உடல் நலக்குறைவினால் எனலாம்

04. கீழே தரப்பட்டுள்ள வெற்றிடத்திற்குப் பொருத்தமான சொல்லை எழுதிப் பழமொழியைப் பூரணப்படுத்துக.

1. மண்ணாய்ப் போகும்.
2. குற்றம் பார்கிற்

05. கீழே தரப்பட்டுள்ள சொற்றொடருக்குரிய தனிச் சொல்லைப் புள்ளிக் கோட்டின் மீது எழுதுக.

1. தாய் தந்தையரை இழந்தவன்

06. கீழே தரப்பட்டுள்ள வாக்கியங்களில் வெற்றிடத்திற்குப் பொருத்தமான விடையை அடைப்புக்குள் இருந்து தெரிவு செய்து அதன் கீழ்க் கோடிடுக.

1. நாம் உண்மைபேச வேண்டும். உண்மை என்பதன் எதிர்ச் சொல் (சத்தியம் / பொய்) ஆகும்
2. இருபத்தைந்தாவது ஆண்டின் இறுதியில் எடுக்கப்படும் விழா (வெள்ளி விழா/ பொன்விழா)

07. கீழே தரப்பட்டுள்ள பாடலின் வெற்றிடத்தைப் பூரணப்படுத்துக?

இருவளக்கில் ஒரு வெண்ணிலாவே
தொளிகொடுப்பாய் வெண்ணிலாவே
 சூரியன்போய்..... வெண்ணிலாவே
 பரப்பிடுவாய் வெண்ணிலாவே



08. பின்வரும் சொற்களை ஒழுங்குபடுத்தி வாக்கியமாக்குங்கள்

1 இடியுடன் / இன்று / கூடிய / காலை / பெய்யும் / மழை

2 ஓடித் / மீன்கள் / திரிகின்றன / சிறிய / தண்ணீரில் / அங்குமிங்கும்


09. கீழே தரப்பட்டுள்ள வாக்கியங்களில் வெற்றிடத்திற்குப் பொருத்தமான விடையை அடைப்புக்குள் இருந்து தெரிவு செய்து அதன் கீழ்க் கோடிடுக.

1. நீல (வானம் / வாணம்) இருண்டது

2. நாம் எல்லோருடனும் அன்பாகப் (பழக/ பலக) வேண்டும்.

10. கீழே தரப்பட்டுள்ள ஆங்கிலச் சொல்லின் கருத்தை தமிழில் எழுதுக.

1. Train



11. படத்தில் காட்டப்பட்டுள்ளதன் பெயரை ஆங்கிலத்தில் எழுதவும்

12. கீழே தரப்பட்டுள்ள ஆங்கில வாக்கியங்களில் உள்ள வெற்றிடத்திற்குப் பொருத்தமான சொல்லை அடைப்புக்குள் இருந்து தெரிவு செய்து அதன் கீழ்க் கோடிடுக.

1. Who (is / are) shouting?

2. How(is / are) you?

13. கீழே தரப்பட்டுள்ள வாக்கியத்தின் கருத்தை தமிழில் எழுதுக.

I am Hungry

14. கீழே தரப்பட்டுள்ள சிங்களச் சொல்லின் கருத்தைத் தமிழில் எழுதுக.

புஸ்தகாலய

15. பின்வரும் வாக்கியம் சிங்களத்தில் கூறப்படும் விதத்தைத் தமிழில் எழுதுக.

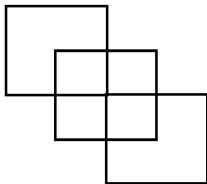
வானம் நீல நிறம்

16. அடைப்பினுள் உள்ள இலக்கங்கள் நான்கையும் பயன்படுத்தி ஆக்கக் கூடிய மிகச் சிறிய எண் யாது?

7	5
0	4

17. தரப்பட்டுள்ள எண்ணிற்கு முன்னாலும் பின்னாலும் இடம் பெற வேண்டிய எண்களை எழுதுக? 5689,

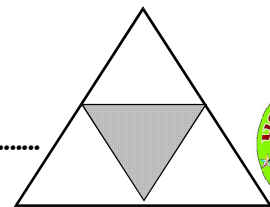
18. கீழுள்ள உருவில் காணப்படும் சதுரங்களின் எண்ணிக்கை யாது?



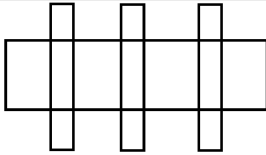
19. 1. கீழுள்ள உருவில் நிழற்றப்பட்டுள்ள பகுதியைப் பின்னத்தில்

குறிப்பிடுக.

2.நிழற்றப்படாத பகுதியை பின்னத்தில் குறிப்பிடுக?



20.



அருகிலுள்ள உருவில் எத்தனை சமச்சீர் கோடுகளை வரைய முடியும் என்பதனை வரைக?

21. பாணுவின் வயது 12 ஆகும். அவளுடைய தாயின் வயது பாணுவின் வயதின் மூன்று மடங்காகும் தாயின்வயது யாது?

.....

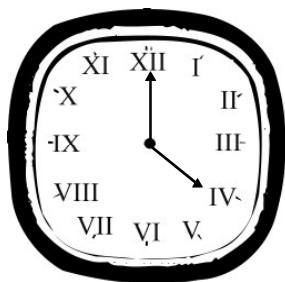
22. கீழுள்ள எண் கோலத்தில் அடுத்து வரவேண்டிய எண்ணை எழுதுக.

2, 4, 8,

23. கீழுள்ள அட்டவணையைப் பூரணப்படுத்துக?

அளவு	500g பைக்கற்றுக்களின் எண்ணிக்கை	250g பைக்கற்றுக்களின் எண்ணிக்கை
5kg சீனி

24. கீழுள்ள கடிகார முகத்தில் காட்டப்பட்டுள்ள நேரத்தை அவதானித்து வினாக்களுக்கு விடை தருக.

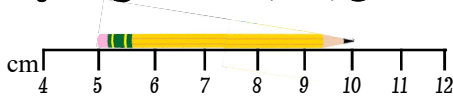


1. கடிகார முகம் காட்டும் நேரத்திற்கு 1 மணித்தியாலயத்திற்கு முன்னுள்ள நேரம் யாது?

.....

2. கடிகார முகம் காட்டும் நேரத்திற்கு 1 மணித்தியாலத்திற்குப் பின்னுள்ள நேரம் யாது?

25. கீழே உருவை அவதானித்து பென்சிலின் நீளத்தை எழுதுக.



.....


26. கீழுள்ள அடைப்பினுள் உள்ள A,B எனும் இடங்களுக்குப் பொருத்தமான எண்களை உரிய புள்ளிக் கோட்டில் எழுதுக.

x	4	5	6
2	8	10	A
3	12	B	18

A

B

27. கீழுள்ள வரைபடத்தை அவதானித்து வினாக்களுக்கு விடை தருக?



1) வீட்டிற்கு வடக்கில் இருப்பது யாது?

.....

2. மரத்திற்கு மேற்குத் திசையில் மிக

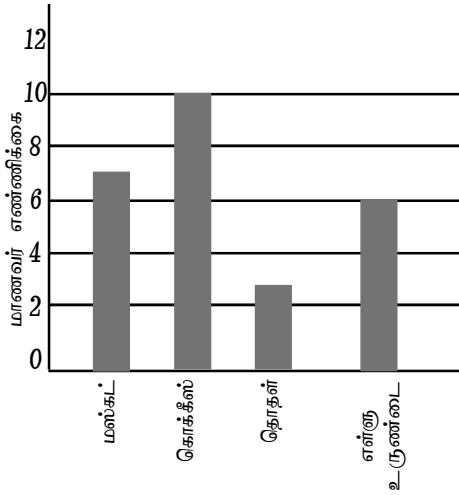
நெருக்கமாக அமைந்திருப்பது யாது?

.....



28. 3l தேங்காய் எண்ணெய் 50ml கொள்வது எத்தனை போத்தல்களை நிரப்ப முடியும்?

29. கீழே தரம் 4 மாணவர்கள் விரும்புகின்ற இனிப்புப் பண்டங்களை நிரல் வரைபு காட்டுகிறது. அதனை அவதானித்துக் கேட்கப்படும் வினாக்களுக்கு விடை தருக?



1. தொதளை விட கொக்கீசை விரும்பும் மாணவர்களின் எண்ணிக்கை யாது?

2. மஸ்கட்டையும் எள்ளுருண்டையையும் விரும்பும் மாணவர்களின் எண்ணிக்கை யாது?

3. தரம் 4 வகுப்பு மாணவர்களின் மொத்த எண்ணிக்கை யாது?

* 30 தொடக்கம் 59 வரையுள்ள ஒவ்வொரு வினாவிற்கும் பொருத்தமான விடையைத் தரப்பட்டுள்ள விடைகளிலிருந்து தெரிவு செய்து அதன் கீழ்க் கோடிடுக.

30. தாவர இலைகளை உண்டு சேதமாக்குவது.

1. வெட்டுக்கிளி 2. கரப்பான் 3. கும்பிடு பூச்சி

31. மலேரியா நோயைப் பரப்பும் பிராணி.

1. நுளம்பு 2. குரங்கு 3. தேன்

32. பூனை விரும்பி உண்ணும் தாவரம் எது?

1. சதைகரைச்சான் 2. சிறுபுள்ளடி 3. குப்பைமேனி

33. தளபாடம் செய்ய பயன்படுத்தப்படும் தாவரம்

1. பப்பாசி 2. தேக்கு 3. முருங்கை

34. மாலையில் மலரும் பூ வகை.

1. ரோசா 2. அந்திமந்தாரை 3. தாமரை

35. உடலுக்கு சக்தியை தரும் உணவு

1. பப்பாசி 2. பிட்டு 3. கரட்

36. மண்ணினுள் புதைத்து வைத்து சில நாட்களுக்கு பேணப்படும் வித்து

1. பலாக்கொட்டை 2. கௌப்பி 3. கடலை

37. நீரைச்சூடாக்கப் பயன்படுத்தப்படும் உபகரணம்



38. இலங்கையின் சுதந்திர தினம் கொண்டாடப்படும் மாதம்
1. டிசம்பர் 2. ஏப்ரல் 3. பெப்ரவரி
39. டெஸ்டர் எனும் கருவியின் தமிழாக்க வடிவப் பெயர்
1. துறப்பணம் 2. ஹீட்டர் 3. மின் சோதிப்பான்
40. எல்லா இனத்தவர்களாலும் கொண்டாடப்படும் விழா
1. சுதந்திரதின விழா 2. வெசாக் 3. தீபாவளி
41. பின்வருவனவற்றுள் தனிப் பாவனைக்குரிய பொருள்
1. துவாய் (டவல்) 2. கதிரை 3. தொலைக்காட்சி
42. காதுகள் மூலம் தகவல்களை பெறக்கூடிய ஊடகம்
1. வானொலி 2. மேடைப்பேச்சு 3. கடிதம்
43. தேசியக் கொடியில் இல்லாத நிறம்
1. சிவப்பு 2. மஞ்சள் 3. நீலம்
44. கஸ்பர் வில் உள்ள உபகரணம்
1. துவிச்சக்கரவண்டி 2. வில்பரோ 3. குளிர்சாதனப்பெட்டி
45. போமலின் இட்ட மீனைச் சாப்பிடுவதால் உண்டாகும் பாதிப்பு
1. வயிற்றுளைவு
2. வாந்தி
3. தோலில் தடிப்புக்கள் ஏற்படல்
46. நீரின் இயல்புகளில் ஒன்று
1. நிறம் உண்டு 2. மணம் உண்டு 3. பரவிச் செல்லுதல்
47. நூற்றுச்சாடி தயாரிக்க பயன்படுத்தப்படாத பொருள்
1. தேங்காய்உரிமட்டை 2. கடதாசி 3. மூங்கில் குழாய்
48. காற்றின் மூலம் பரம்பலடையும் வித்து.
1. தேங்காய் 2. எருக்கலை 3. மா
49. உணவை பேணும் வழிமுறையொன்றல்லாதது?
1. அவித்தல்
2. தகரப்பேணியில் அடைத்தல்
3. காய வைத்தல்
50. இலங்கைக்கு வடக்குத் திசையில் உள்ள நாடு?
1. அவுஸ்திரேலியா 2. ஆபிரிக்கா 3. இந்தியா
51. அரசு இலச்சினையில் சந்திரன், சூரியன் மூலம் உணர்த்தப்படும் கருத்து யாது?
1. சௌபாக்கியம் 2. தார்மீகம் 3. நிலைத்திருத்தல்

52.



இக் கலை அலங்கார வடிவம் எது?

1. பலாபெத்தி
2. நீரலை
3. கல்பிந்து



53. நீருடன் நன்கு கலக்கக் கூடிய திரவம்.
 1. மண்ணெண்ணெய் 2. தேங்காயெண்ணெய் 3. வினாகிரி
54. உலக நீர் தினம்?
 1. மார்ச் - 22 2. மே -22 3. ஜூன் -22
55. வட மத்திய மாகாணத்திற்குரிய மாவட்டம் எது?
 1. கொழும்பு 2. அம்பாறை 3. அனுராதபுரம்
56. அடிப்படை தையல் முறைகளில் ஒன்று
 1. சோம் தையல்
 2. கம்களித்தையல்
 3. சங்கிலித் தையல்
57. உணவைச் சுவையூட்டப் பயன்படுத்தப்படும் பொருள் அல்லாதது?
 1. கறிவேப்பிலை 2. பழப்புளி 3. வேப்பம்பட்டை
58. பேருந்து ஒன்றில் ஆசனம் ஒதுக்கப்படாத பகுதியினர்?
 1. மதகுருமார்
 2. படித்த வாலிபர்கள்
 3. கர்ப்பிணித் தாய்மார்கள்.
59. பால், சோயாப்பால், பருப்பு, பயறு போன்ற உணவுகளின் முக்கியத்துவம்
 1. உடல் வளர்ச்சிக்கு உதவுதல்
 2. நோய்க் காப்புத் தருவது
 3. உடலுக்கு சக்தி வழங்குவது



60. நாம் எமது பண்டைய விழாக்களை முற்றிலும் மறந்து விட்டோம். அவற்றில் ஒன்றுதான் கெந்தி விளையாட்டு ஆகும். “கெந்தி விளையாட்டு” எனும் தலைப்பில் மூன்று வாக்கியங்கள் எழுதுக. ஒவ்வொரு வாக்கியத்திலும் ஐந்து சொற்களுக்குக் குறையாதிருத்தல் வேண்டும். எழுவாய், பயனிலைத் தொடர்புகளும் எழுத்துக் கூட்டல்களும் சரியாக இருத்தல் வேண்டும்.

கெந்தி விளையாட்டு

1.

2.

3.

- நன்றி -

- வீட்டில் இருந்து கற்றுப் பயன் பெறுக -

